

SOLUCIÓN

Salvo error u omisión

① a) Busco recta paralela a $2x + y = 3 \Rightarrow$

$\Rightarrow y = -2x + 3 \Rightarrow$ su pendiente es -2

Derivo $f(x)$

$f'(x) = -2x$. Veo cuando vale -2

$$-2x = -2 \Rightarrow x = 1 \Rightarrow f(1) = 4 - 1^2 = 3 \Rightarrow \text{pto } (1, 3)$$

La recta pedida es

$$y - 3 = -2(x - 1)$$

b) El área entre $y = 4 - x^2$ e $y = x - 2$ coincide con el área entre la función dada por su diferencia y el eje OX .

Resto

$$y = 4 - x^2 - (x - 2) = -x^2 - x + 6$$

La represento. Calculo sus pto de corte

$$-x^2 - x + 6 = 0 \Rightarrow x^2 + x - 6 = 0 \Rightarrow x = \frac{-1 \pm \sqrt{1 + 24}}{2} = \begin{matrix} \nearrow 2 \\ \searrow -3 \end{matrix}$$

Por tanto



$$\Delta = \int_{-3}^2 (-x^2 - x + 6) dx = \left. -\frac{x^3}{3} - \frac{x^2}{2} + 6x \right|_{-3}^2 =$$

$$= -\frac{2^3}{3} - \frac{2^2}{2} + 6 \cdot 2 - \left(-\frac{(-3)^3}{3} - \frac{(-3)^2}{2} + 6(-3) \right) =$$

$$= -\frac{8}{3} - 2 + 12 - \left(9 - \frac{9}{2} - 18 \right) = -\frac{8}{3} + 10 + \frac{9}{2} + 9 = \frac{-16 + 60 + 27 + 54}{6} =$$

$$= \frac{125}{6} \text{ u}^2$$

2°

$$f(x) = \frac{4}{x^2-4}$$

$$\text{Dom } f(x) = \mathbb{R} - \{\pm 2\}$$

a/ 1. Verticales $x = -2, x = 2$

Vejo limites laterales

$$\lim_{x \rightarrow -2^-} \frac{4}{x^2-4} = \lim_{x \rightarrow -2^-} \frac{4}{(x+2)(x-2)} = \frac{+}{- \cdot -} \infty = +\infty$$

$$\lim_{x \rightarrow -2^+} f(x) = \frac{+}{+ \cdot -} \infty = -\infty$$

$$\lim_{x \rightarrow 2^-} f(x) = \frac{+}{+ \cdot -} \infty = -\infty$$

$$\lim_{x \rightarrow 2^+} f(x) = \frac{+}{+ \cdot +} \infty = +\infty$$

2. Horizontales

$$\lim_{x \rightarrow \pm\infty} \frac{4}{x^2-4} = 0 \Rightarrow y = 0 \Rightarrow \text{No hay oblicuas.}$$

b/ Derivo

$$f'(x) = \frac{-4 \cdot 2x}{(x^2-4)^2} = \frac{-8x}{(x^2-4)^2}$$

Vejo puntos criticos

$$f'(x) = 0 \Rightarrow -8x = 0 \Rightarrow x = 0$$

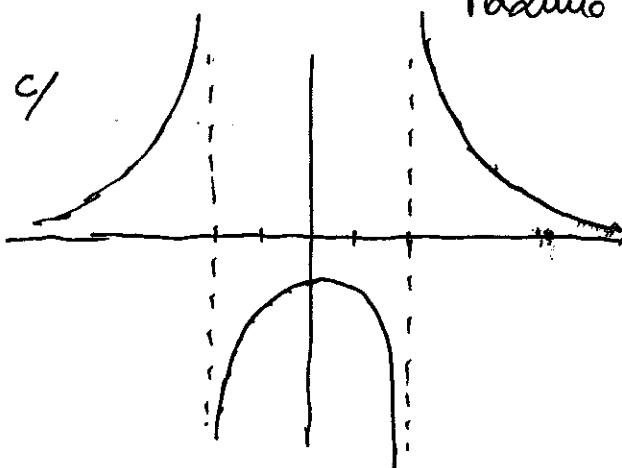
Vejo signo de $f'(x)$

	+	+	+	-	-	-
	+	+	0	+	+	+
$f(x)$	+	-	-	-	-	-
	↗	↗	↘	↘	↘	↘

Por tanto $f(x)$ crece $\forall x \in (-\infty, -2) \cup (-2, 0)$

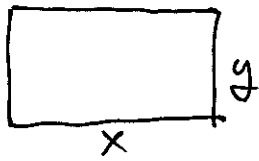
decrece $\forall x \in (0, 2) \cup (2, \infty)$

Máximo en $x = 0 \Rightarrow y = -1$



(2/4)

- 3° Sean $x \equiv$ base del rectángulo
 $y \equiv$ altura " "



Quiero que el área sea máxima
 Es decir, que $f(x, y) = x \cdot y$ lo sea.

Se que $2x + 2y = 10 \Rightarrow y = \frac{10 - 2x}{2} = 5 - x$

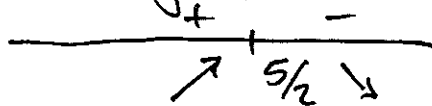
Por tanto busco el máximo de

$$f(x) = x(5 - x) = 5x - x^2$$

Derivo $f'(x) = 5 - 2x$

punto crítico $\Rightarrow f'(x) = 0 \Rightarrow 5 - 2x = 0 \Rightarrow x = \frac{5}{2}$

Veo signo de $f'(x)$



y el máximo se alcanza en $x = \frac{5}{2} \Rightarrow y = \frac{5}{2}$.

Las medidas serían $\frac{5}{2} \times \frac{5}{2}$

- 4° Para todos los valores del intervalo $(0, 2)$ distintos de 1 $f(x)$ es derivable por ser polinómica.

Para que sea derivable en $x=1$ debe cumplirse

- Continua en $x=1$, es decir

$$\lim_{x \rightarrow 1^-} f(x) = \lim_{x \rightarrow 1^+} f(x) = f(1)$$

$$f(1) = \lim_{x \rightarrow 1^-} f(x) = \lim_{x \rightarrow 1^-} x^3 - 12x + 1 = -10$$

$$\lim_{x \rightarrow 1^+} f(x) = \lim_{x \rightarrow 1^+} 20x^2 + bx + c = b + c + 20$$

$$\Rightarrow b + c + 20 = -10 \Rightarrow b + c = -30$$

(3/4)

- Derivada continua en $x=1$

$$f'(x) = \begin{cases} 3x^2 - 12 & \text{si } 0 \leq x < 1 \\ 40x + b & \text{si } 1 < x \leq 2 \end{cases}$$

$$\lim_{x \rightarrow 1^-} f'(x) = \lim_{x \rightarrow 1^+} f'(x) = f'(1)$$

$$f'(x) = \lim_{x \rightarrow 1^-} f'(x) = \lim_{x \rightarrow 1^-} 3x^2 - 12 = -9$$

$$\lim_{x \rightarrow 1^+} f'(x) = \lim_{x \rightarrow 1^+} 40x + b = b + 40$$

$$\Rightarrow -9 = b + 40 \Rightarrow b = -49$$

Por tanto será derivable si

$$\left. \begin{array}{l} b + c = -30 \\ b = -49 \end{array} \right\} \Rightarrow c = -30 - b = -30 + 49 = 19$$

$$b = -49 \quad c = 19$$

5° a/ i/ $y' = \frac{1}{\frac{e^x}{1+e^x}} \cdot \frac{e^x(1+e^x) - e^x \cdot e^x}{(1+e^x)^2}$

ii/ $y' = 2^{5x^2} \cdot \ln 2 \cdot 10x \cdot x^{10} + 2^{5x^2} \cdot 10x^9$

b/ i/ $\int \frac{x}{3x^2-5} dx = \frac{1}{6} \int \frac{6x}{3x^2-5} dx = \frac{1}{6} \ln|3x^2-5| + K$

ii/ $\int_{-1}^1 3x^2 - 7x + 1 dx = \frac{3x^3}{3} - \frac{7x^2}{2} + x \Big|_{-1}^1 =$

$$= 1 - \frac{7}{2} + 1 - \left(-1 - \frac{7}{2} - 1 \right) = 2 - (-2) = 4$$

(4/4)